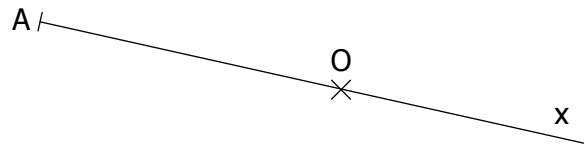
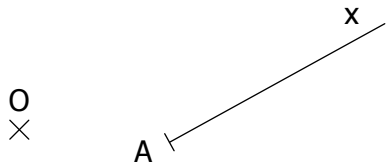
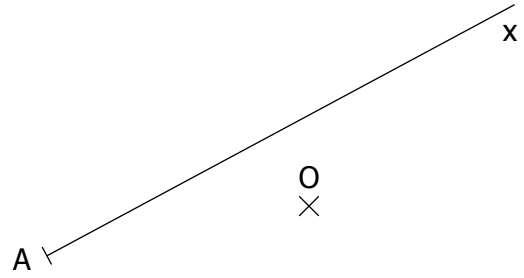


EXERCICE 1

Construire dans chaque cadre le symétrique de la demi-droite $[Ax)$ par rapport au centre O :



EXERCICE 2

Construire dans chaque cadre le symétrique du cercle de centre I par rapport à O :

